

## UNIFESP – 19/12/2002

### GEOGRAFIA

31. Assinale a alternativa que relaciona corretamente a tabela com alterações verificadas na China.

Exportação (%)	1974	1986	2000
Agricultura	42,4	16,2	7,8
Energia	16,3	8,4	2,8
Manufatura	47,5	71,4	87,3

L' état du Monde, 2001

Nas últimas décadas, o país

- a) transformou-se em uma plataforma de exportação de produtos industrializados, com participação de capital externo.
- b) passou por uma abertura comercial que resultou no incremento do mercado interno, em detrimento das exportações.
- c) democratizou-se, a ponto de garantir o acesso a bens manufaturados à população chinesa.
- d) diminuiu as vendas de produtos agrícolas, em função da maciça migração do campo para suas principais cidades.
- e) baixou suas vendas de produtos energéticos para fornecer energia a Taiwan, que considera seu território.

#### Resolução:

A questão apresenta um quadro com a evolução da distribuição das exportações no período 1974 a 2000. Após 1980, a China iniciou um programa de abertura econômica voltado para a instalação de *joint ventures* com empresas estrangeiras produtoras de bens de consumo cuja finalidade era a exportação.

**Alternativa A**

32. Diversos países da América do Sul enfrentaram crises entre 2001 e 2002. Assinale a alternativa que indica corretamente as razões para cada país abordado.

- a) Colômbia, crise financeira devido à presença de capital internacional.
- b) Peru, crise política devido ao não pagamento de compromissos externos.

- c) Argentina, crise financeira devido à ação de guerrilhas no interior do país.
- d) Brasil, crise financeira devido ao crescimento da dívida interna na última década.
- e) Venezuela, crise política devido a denúncias de corrupção de seu presidente Hugo Chávez.

#### Resolução:

A questão solicita a causa adequada para as crises que ocorrem em vários países da América do Sul. Analisando as alternativas, pode-se concluir que apenas a que trata do Brasil apresenta uma das causas da atual crise no país. Ressaltamos, entretanto, que a crise não é causada apenas pelo fator indicado na alternativa mas sim por um leque de fatores, tais como: o aumento das taxas de juros, a volta da inflação, o aumento dos gastos com os serviços da dívida externa, a especulação de investidores internos e externos, a desvalorização da moeda e o reflexo de crises internacionais, como a da Argentina.

**Alternativa D**

33. Em meio a crises, os países sul-americanos negociam a:

- a) fusão do Mercosul à União Européia, eliminando taxas para o comércio de produtos agrícolas.
- b) implementação da ALCA, sofrendo pressão dos Estados Unidos pela abertura de seus mercados.
- c) criação do CARICOM, para instalar bases militares nos países da região, visando combater o terrorismo.
- d) ampliação do Pacto Andino, graças ao Plano Colômbia, que visa criar uma infra-estrutura viária comum aos países do bloco.
- e) integração dos países do Pacto Amazônico com o NAFTA, propondo o uso sustentável dos recursos genéticos e da água doce.

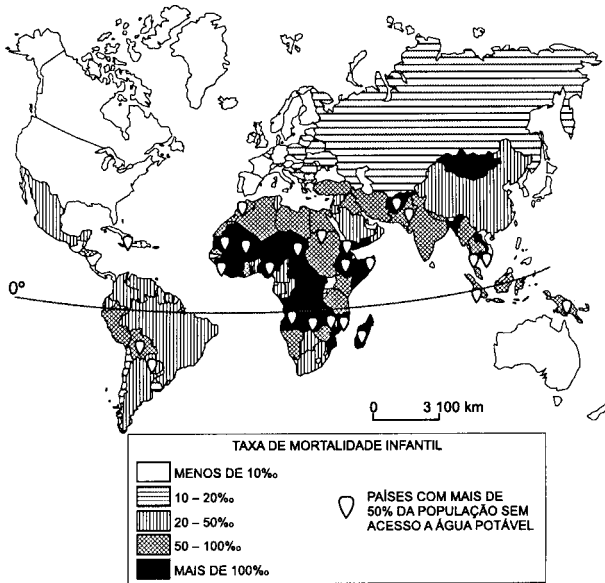
#### Resolução:

A questão apresenta vários blocos econômicos e especula sobre possíveis acordos e fusões entre os mesmos. A única alternativa possível trata da futura criação da Alca – Área de Livre Comércio das Américas – cujas difíceis negociações começam em 2003, com início de funcionamento previsto para 2005.

**Alternativa B**

34. Observe o mapa.

### MORTALIDADE INFANTIL



M. E. Simielli, Geoatlas, 2000

Pode-se afirmar que as taxas de mortalidade infantil são:

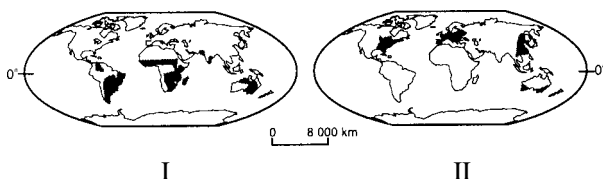
- baixas na América do Sul, graças à inexistência de guerras.
- elevadas na Escandinávia, apesar do rígido controle de natalidade.
- mais elevadas em países africanos e estão associadas à falta de água.
- irrelevantes na China e na Índia, devido às elevadas taxas de natalidade.
- mais baixas em países europeus, devido à elevada expectativa de vida da população.

#### Resolução:

A questão apresenta um mapa mundi cujo tema é a **mortalidade infantil** e países com dificuldade de acesso à água tratada. Analisando as alternativas, verifica-se que apenas a letra C trata da África, continente onde as taxas de mortalidade infantil são superiores ao padrão máximo estabelecido pela Unicef: até 15 por mil.

#### Alternativa C

35. Assinale a alternativa que corresponde às formações vegetais indicadas em I e II, respectivamente.



I

II

R. Dajoz, Ecologia geral, 1983

- I – florestas boreais; II – florestas tropicais.
- I – florestas tropicais; II – florestas boreais.
- I – florestas boreais e savanas; II – campos tropicais.
- I – florestas temperadas; II – savanas e campos tropicais.
- I – savanas e campos tropicais; II – florestas temperadas.

#### Resolução:

A questão apresenta dois mapas mundi tratando de paisagens vegetais e pedindo a sua identificação. O mapa I assinala o domínio das **savanas** (que no Brasil são conhecidas como **cerrados**, com seus arbustos e gramíneas) e os **campos tropicais**, que na América do Sul são conhecidos como **pampas**. O mapa II assinala os domínios das **florestas temperadas**, com suas folhas caducifólias.

#### Alternativa E

36. Leia as frases seguintes, sobre as dificuldades para a paz entre Israel e a Palestina.

- Destino de 3 milhões de refugiados palestinos dispersos pelos países vizinhos.
- Controle do Rio Jordão a partir das colinas de Golã, que estão sob domínio da Síria.
- Fim da Intifada, movimento de judeus pela aceitação do acordo de Oslo.
- Definição da situação de Jerusalém, apontada como capital por judeus e considerada sagrada pelos palestinos.
- Presença de colônias judaicas em áreas destinadas ao estado Palestino.

Está correto o que se afirma em:

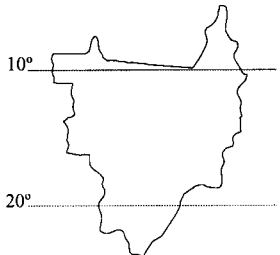
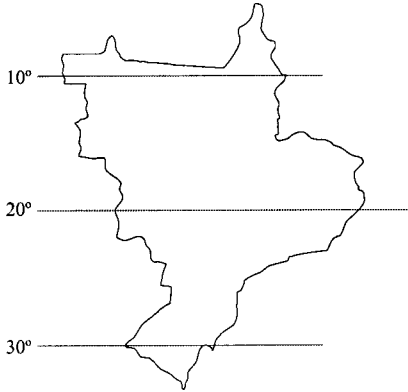
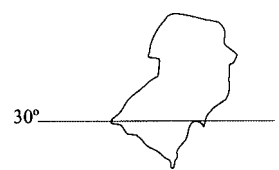
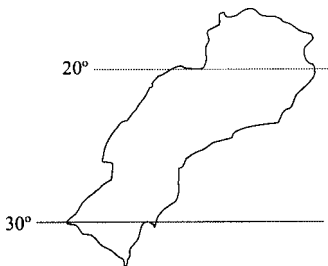
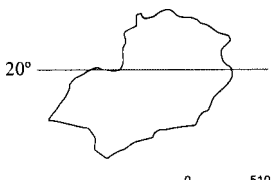
- I, II e IV, apenas.
- I, III e V, apenas.
- I, IV e V, apenas.
- II, III e IV, apenas.
- II, III e V, apenas.

#### Resolução:

A questão aborda o problema da **Palestina**, apresentando cinco afirmativas que devem ser julgadas, das quais três são corretas: a I, a IV e a V. Estão incorretas as afirmativas: II, pois as Colinas de Golã encontram-se, desde 1967 (ano da Guerra dos Seis Dias), sob o domínio de Israel; III, completamente incorreta, pois a **intifada**, movimento de árabes palestinos contra o domínio israelense, continuou após 2000, com a utilização de terroristas-bomba, não tendo sido cumpridos pelas partes o acordo assinado em Oslo.

#### Alternativa C

37. O geógrafo Milton Santos definiu uma **região concentrada** no Brasil. Ela é formada pela elevada densidade dos setores de serviços e industrial, configurando um meio técnico científico informacional que corresponde aos setores econômicos mais avançados do país. Assinale a alternativa que indica corretamente a região concentrada.

- a) 
- b) 
- c) 
- d) 
- e) 
- 0 510 km

**Resolução:**

A elevada densidade dos setores de serviços e industrial está presente nas áreas compreendidas pelos estados das Regiões Sul e Sudeste, área demonstrada na:

**Alternativa D**

38. A tabela seguinte se refere a uma indústria automobilística localizada no Estado de São Paulo.

Ano	Quantidade de itens diferentes produzidos na fábrica
1997	1270
2002	870

Valor, 26.06.2002

A reestruturação produtiva que confirma a tabela é chamada de

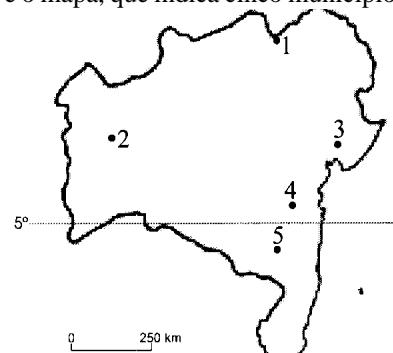
- a) substituição de importações, na qual empresas exportam partes dos veículos.
- b) terceirização, na qual empresas produzem partes dos veículos para as montadoras.
- c) globalização, na qual empresas recebem partes dos carros produzidas em países do mesmo bloco.
- d) flexibilização, na qual empresas diversificam a linha de produtos para ampliar mercado.
- e) modernização, na qual indústrias automobilísticas instalam máquinas que aumentam a produtividade.

**Resolução:**

A tabela demonstra a redução de peças produzidas na indústria automobilística, entre 1997 e 2002. No final da década de 1990, o sistema de produção “horizontal” levava a indústria a produzir grande parte das peças que consumia. Posteriormente, com a “verticalização” do sistema, as fábricas passaram a terceirizar grande parte da produção de peças, criando o sistema “just in time”.

**Alternativa B**

39. Observe o mapa, que indica cinco municípios.



Um dos cinco municípios, situado em pleno Polígono das Secas e às margens do rio São Francisco, foi beneficiado pela introdução de políticas públicas que permitiram o desenvolvimento de atividades agrícolas para exportação. Assinale a alternativa que identifica corretamente a sede desse município.

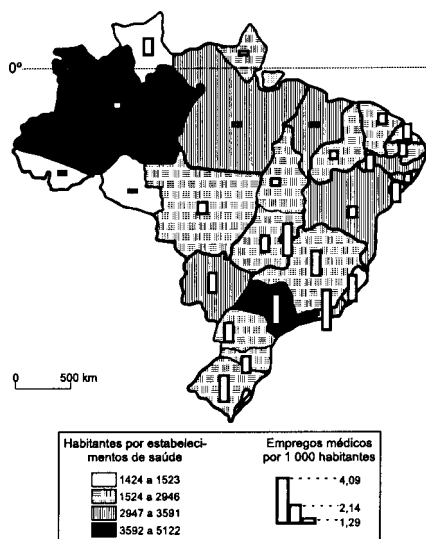
- Juazeiro.
- Barreiras.
- Feira de Santana.
- Jequié.
- Vitória da Conquista.

#### Resolução:

O mapa apresenta o contorno do estado da Bahia, com a localização de algumas cidades. A questão aborda a região do Polígono das Secas e das margens do rio São Francisco. Em alguns casos, essas áreas são irrigadas, apresentando produção de frutos destinada à exportação. Analisando-se a disposição das cidades apresentadas, a única que se localiza no vale do São Francisco é justamente Juazeiro.

#### Alternativa A

40. Observe o mapa.



Estatísticas de saúde: assistência médico-sanitária. IBGE, 2000

O mapa indica que:

- na Região Norte faltam empregos médicos, embora sobre serviços de saúde por habitante.
- o Amazonas possui a mesma estrutura de serviços de saúde que São Paulo, embora tenha mais médicos por habitante.
- a melhor relação entre oferta de serviços de saúde e empregos médicos por habitante da Região Nordeste está no Ceará.

- a pior relação entre oferta de serviços de saúde e empregos médicos por habitante está no Rio Grande do Sul, entre os estados da Região Sul.
- São Paulo, apesar de ter um elevado número de empregos médicos por habitante, possui poucos estabelecimentos de serviços de saúde por habitante.

#### Resolução:

A análise do mapa e da legenda nos leva à única alternativa que representa com coerência as informações apresentadas: alternativa E. As demais possuem comentários contrários aos dados apresentados.

#### Alternativa E

41. O SIVAM foi introduzido na Amazônia para

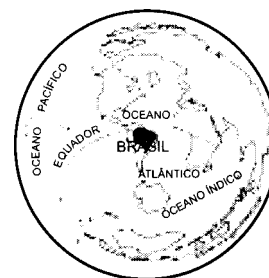
- substituir a SUDAM, que foi extinta por denúncias de corrupção.
- controlar queimadas, utilizando técnicas desenvolvidas pelos povos indígenas.
- monitorar a região, a partir de um sofisticado sistema que integra satélites e aviões.
- integrar a região à economia de mercado, contando com financiamento do Banco Mundial.
- delimitar unidades de conservação, impedindo que as mudanças no Código Florestal permitissem a ampliação do desmatamento.

#### Resolução:

Assunto amplamente discutido pela mídia, o início do funcionamento do SIVAM era aguardado ansiosamente, pois é de grande valia para a defesa do espaço aéreo e terrestre da Amazônia brasileira. Para o serviço de monitoramento da região, o sistema conta com o apoio de modernos e sofisticados satélites, aviões e radares.

#### Alternativa C

42. Observe o mapa, centrado num ponto do Brasil, que pode ser empregado para uma avaliação estratégica do país no mundo.



M. E. Simielli, Geoatlas. 1991

Esse mapa foi desenhado segundo a projeção:

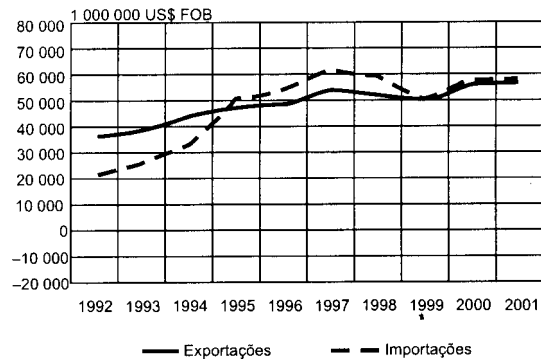
- a) de Mercator.
- b) cônica equidistante.
- c) de Peters.
- d) azimutal.
- e) de Mollweide.

**Resolução:**

Questão clássica de cartografia, pede a identificação do tipo de projeção utilizada. A escolhida pela questão foi a projeção azimutal equidistante, geralmente utilizada para fins geopolíticos. **Alternativa D**

43. Analise o gráfico.

**Brasil: Exportação e Importação, 1992 - 2001.**



Ministério do Desenvolvimento, Indústria e Comércio, 2002

O gráfico indica que, entre 1995 e 1999, houve

- a) déficit na balança comercial, resultado da abertura econômica.
- b) superávit na balança comercial, resultado da abertura econômica.
- c) déficit na balança comercial, resultado da queda da produção agrícola.
- d) superávit na balança comercial, correspondente ao aumento da produção agrícola.
- e) equilíbrio comercial, dada a variação pouco expressiva da importação e exportação do país.

**Resolução:**

A análise do gráfico mostra claramente um período de déficit comercial, entre meados de 1995 e início de 1999, apresentando exportações superiores às importações, o que se deve, entre outras coisas, ao processo de abertura econômica do país. A desvalorização do **real**, ocorrida em 1999, provocou, nos anos posteriores, um aumento significativo das exportações, resultando daí um equilíbrio da balança comercial até o final do período considerado.

**Alternativa A**

44. O lixo resultante de serviços de saúde deve ter como destino

- a) os postos de entrega voluntária, onde recebe tratamento químico para posterior reciclagem.
- b) a reciclagem, para economizar material e diminuir o consumo energético.
- c) os postos de coleta especial, para depois serem depositados em lixões.
- d) o aterro sanitário, onde ele é tratado antes de ser enterrado.
- e) a incineração, para eliminar vetores de doenças.

**Resolução:**

A grande quantidade e variedade de lixo, um dos principais problemas ambientais da atualidade, deve merecer das autoridades um tratamento mais sério, promovendo a coleta seletiva e a separação dos diferentes tipos de resíduos sólidos e líquidos. O lixo hospitalar, um dos mais perigosos, por sua característica infectante, deve ser **incinerado, para eliminar vetores de doenças.**

**Alternativa E**

45. Encontra-se em uma região úmida que recebe forte influência da Massa Tropical Atlântica, recebe muita insolação devido à sua localização tropical e sofre com enchentes em épocas de chuvas. Trata-se da cidade de

- a) Manaus.
- b) Salvador.
- c) Fortaleza.
- d) Brasília.
- e) Porto Alegre.

**Resolução:**

A questão apresenta características de uma variedade climática influenciada pela mTa – Massa Tropical Atlântica, quente e úmida, com ação principalmente no verão. A área de ocorrência dessa variedade climática — o **tropical atlântico** — é o litoral oriental do Nordeste, onde se localiza a cidade de Salvador. **Alternativa B**

**COMENTÁRIOS**

A prova, composta por 6 questões de Geografia Geral e 9 de Geografia do Brasil, apresentou mapas e tabelas para análise, o que exige do aluno atenção e raciocínio. O nível de dificuldade foi baixo, com questões básicas sobre temas tradicionais: 9 foram fáceis e 6 foram de nível regular.